

## Hudobná náuka 3.ročník, I.časť


### Téma: Opakovanie

#### 29. Opakovanie


Ktoré stupne zvyšujeme v molovej harmonickej a melodickej stupnici?

Vymenuj tóny stupnice a mol harmonickej a melodickej.

Zakrúžkuj  
predznamenie  
stupníc e mol, h mol.



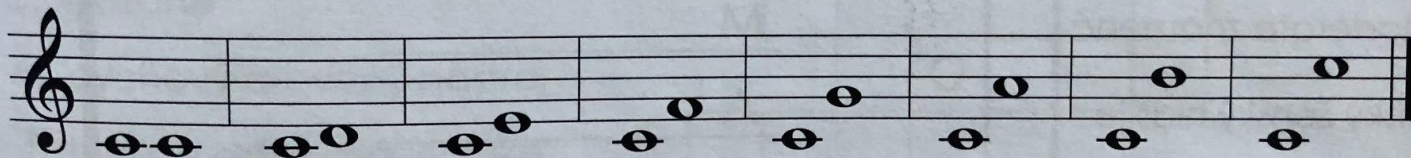
Ku ktorým stupniciam patria molové kvintakordy?



Doplň názvy čistých a veľkých intervalov. Pomoc: **čistá** prima.

\_\_\_\_\_ prima, \_\_\_\_\_ sekunda, \_\_\_\_\_ tercia, \_\_\_\_\_ kvarta,  
\_\_\_\_\_ kvinta, \_\_\_\_\_ sexta, \_\_\_\_\_ septima, \_\_\_\_\_ oktáva

Zakrúžkuj čistú primu, veľkú terciu, čistú kvintu a čistú oktávu.



Doplň taktové čiary a vytlieskaj.

