

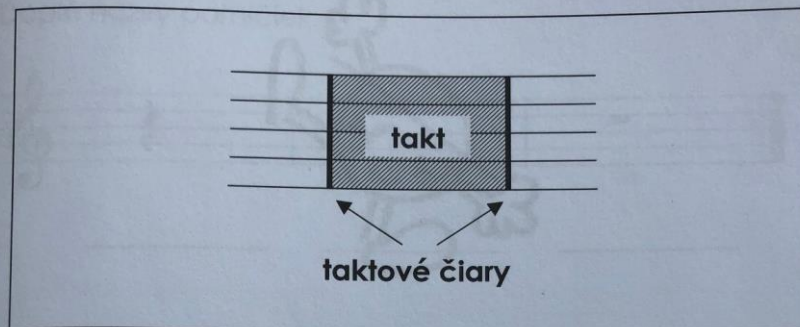
Hudobná náuka 1.ročník, I.časť

Téma: Takt a pomlčky

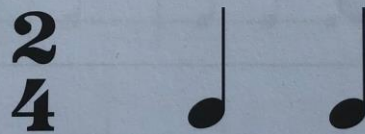
Takt je úsek, ktorý je ohraničený taktovými čiarami. Striedajú sa v ňom prízvučné a neprízvučné doby, ktoré udávajú rytmus.

Zapisuje sa horným číslom, ktoré udáva počet dôb a dolným číslom, ktoré označuje doby, na ktoré sa bude rátať, teda dve štvrt'ové v dvoj štvrt'ovom takte.


8. Takt



9. Takt dvojštvrt'ový



Doplň chýbajúce taktové čiary.




Do cvičného zošita si urobíme poznámky a zakreslíme doplnené takty v dvojštvrt'ovom takte na str.9 a vymyslíme tiež vlastné doby v dvojštvrt'ovom takte.

Ďalej si vysvetlíme pomlčky, čo znamenajú v skladbe a druhy pomlčiek podľa dĺžky trvania teda poznáme celú, polovú a štvrt'ovú. Zakreslíme ich do cvičného notového zošita na 1 riadok každú osobitne v notovej osnove.




10. Pomlčka štvrt'ová, polová a celá


Pomlčka znamená, že určitý čas nehráme.



Pomlčka štvrt'ová trvá jednu dobu.



Pomlčka polová trvá dve doby.



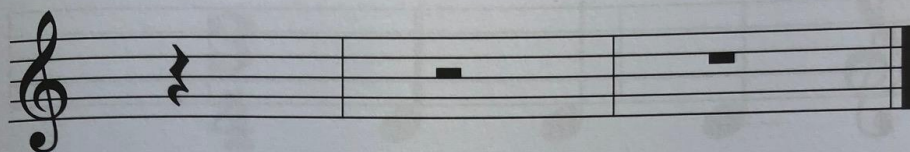
Pomlčka celá trvá štyri doby.

DOMÁCA ÚLOHA:

Vypracujeme úlohy z PZ na str.11 a 8


11. Pomlčky

Doplň názvy pomlčiek.

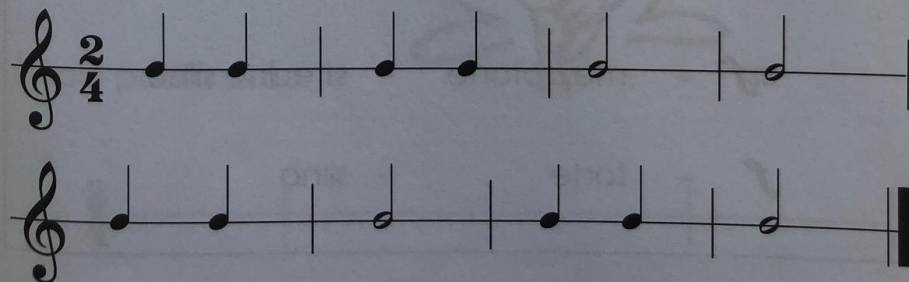


12. Takt dvojštvrtový

Zakrúžkuj takty, ktoré sú správne. Ostatné vyškrtni.

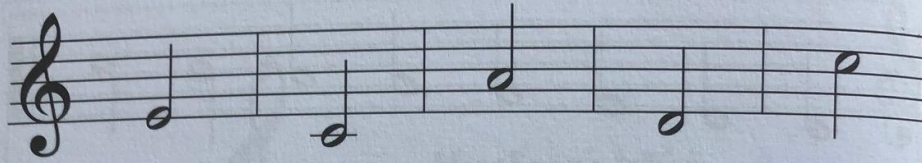



Vytlieskaj podľa nôt.




7. Noty

Doplň názvy nôt.







Nota celá sa počíta na _____ doby.

Nota polová sa počíta na _____ doby.

Nota štvrťová sa počíta na _____ dobu.