

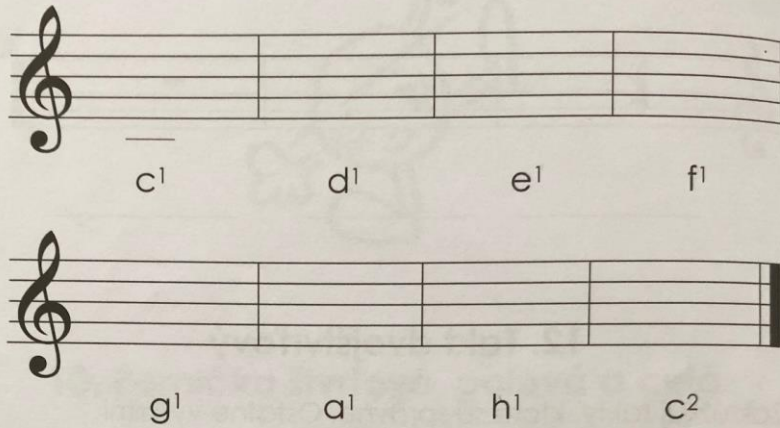
Hudobná náuka 1.ročník, I.časť

Téma: Dynamické znamienka a trojštvt'ový takt

V úvode si zopakujeme písanie nôť hudobnej abecedy do pracovného zošita na strane 12 a potom zapíšeme nové dynamické znamienka do notového zošita a naučíme sa ich aj značky.

13. Noty

Napíš noty.



14. Dynamické znamienka

Dynamika je striedanie tónov rôznej sily v hudobnom diele.

<i>p</i>	-	piano	-	slabo
<i>mf</i>	-	mezzoforte	-	stredne silno
<i>f</i>	-	forte	-	silno

12

Vysvetlíme si ďalej rátanie v trojštvrťovom takte.

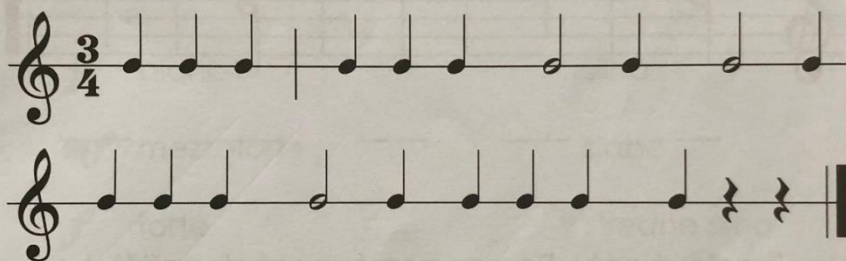
Horné číslo predstavuje 3 *doby*, ktoré budú stále v takte a dolné číslo znamená na aké hodnoty budeme rátat' takt, teda v tomto prípade *štvrťové doby*. Vymyslíme podľa seba nejaké takty a doplníme taktové čiary v pracovnom zošite.

15. Takt trojštvrťový

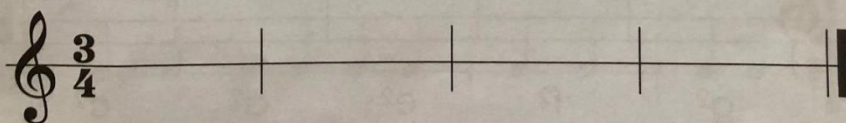
3
4



Doplň chýbajúce taktové čiary.



Doplň podľa seba.

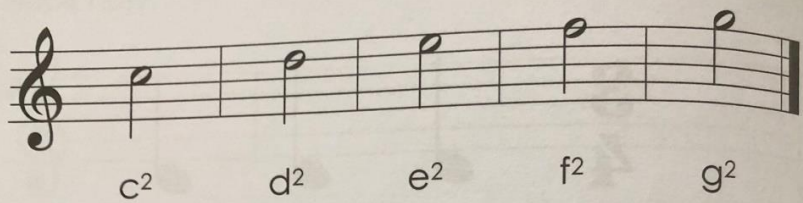


DOMÁCA ÚLOHA:

Zapišeme si do notového zošita nové noty od c²-g² z prac zošita na str.14 a naučíme sa ich.

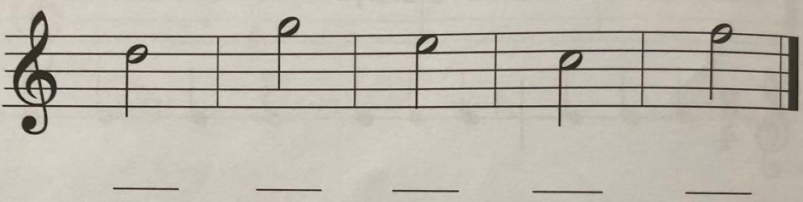
Vyplníme úlohy na opakovanie a upevnenie učiva na danej strane.

16. Noty

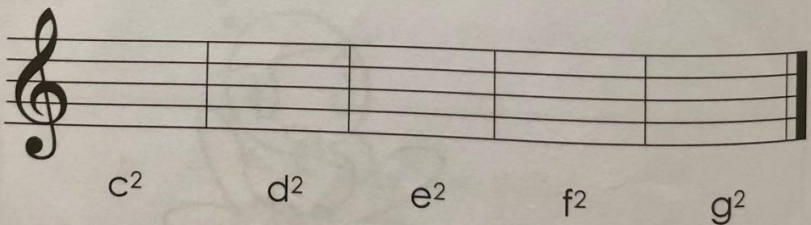


c² d² e² f² g²


Doplň názvy nôt.



Napiš polové noty. Pozor na správny zápis nožičiek.



c² d² e² f² g²



g² f² e² d² c²

14