

Hudobná náuka 3.ročník, I.časť


Téma: Základné intervaly

18. Základné intervaly

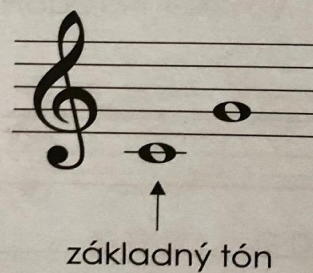
Interval je výšková vzdialenosť medzi dvoma tónmi.

Intervaly čisté: **prima, kvarta, kvinta, októva**

Intervaly veľké: **sekunda, tercia, sexta, septima**



Intervaly tvoríme od základného tónu.



Intervaly značíme skratkou:

intervaly čisté: **č. 1, č. 4, č. 5, č. 8**

intervaly veľké: **v. 2, v. 3, v. 6, v. 7**

Pokračujeme ďalej v dištančnom vzdelávaní a na str.26 v PZ sa oboznámi s INTERVALMI.

Z definície vyplýva, že interval je vzdialenosť-teda počet tónov, ktorý je od základného tónu napr.c1 vrátane po tón, ktorý daný interval určil g1, čiže 5 tónov . Základné rozdelenie intervalov predstavuje intervaly ČISTÉ a VEĽKÉ.

Naučíme sa tiež latinské pomenovanie číslic od 1-primy až po 8-oktávu.

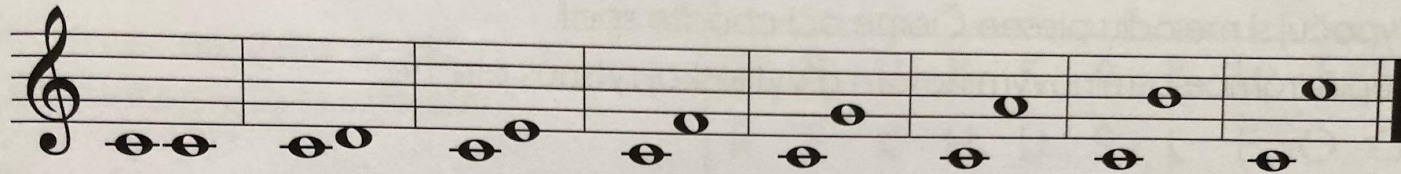
Zo str.26 si urobíme poznámky do notového zošita a latinské názvy čísiel a rozdelenie intervalov, ktorým prislúchajú sa naučíme.

DOMÁCA ÚLOHA

V PZ na str. 27 si prepíšeme do notového zošita základné intervaly ktoré budú od tónu c1 a určíme teda či sú veľké alebo čisté.

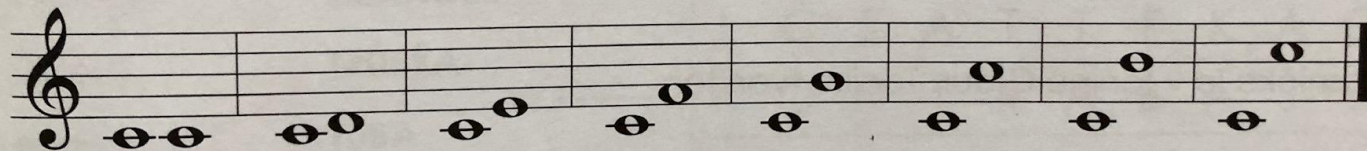
Ďalej v cvičení spojíme správne intervaly so zápisom (v.3-veľká tercia, č.1-čistá prima,..)

Základné intervaly od tónu c¹.



ČISTÁ VEĽKÁ VEĽKÁ ČISTÁ ČISTÁ VEĽKÁ VEĽKÁ ČISTÁ
PRIMA SEKUNDA TERCIA KVARTA KVINTA SEXTA SEPTIMA OKTÁVA

Spoj čiarou interval a názov intervalu.



v. 3 č. 1 č. 5 v. 2 v. 7 č. 4 č. 8 v. 6